

Matematyka klasa IV.
Dział IV – figury geometryczne – część I.
Powtórzenie i utrwalenie wiadomości z figur geometrycznych.
Klasa IVa

Poniżej załączyłam powtórzeniowe zadania dwóch pierwszych tematów.
Należy je wykonać do 31.03.2020.
Życzę udanej i owocnej pracy.

Zadanie 1

Przepisz i uzupełnij przykłady.

Poziom A

a) 3 cm = mm

e) 7 m = cm

i) 11 cm = mm

b) 4 dm = cm

f) 15 km = m

j) 30 dm = cm

c) 9 cm = mm

g) 20 m = cm

k) 50 km = m

d) 2 km = m

h) 24 m = dm

l) 9 dm = mm

Poziom B

a) 30 mm = cm

e) 650 dm = m

i) 4200 dm = m

b) 200 cm = m

f) 800 mm = cm

j) 2400 cm = m

c) 150 cm = dm

g) 720 cm = dm

k) 51 000 m = km

d) 7000 m = km

h) 7260 mm = cm

l) 2000 mm = m

Poziom C

a) 5 cm 2 mm = mm

e) 15 cm 3 mm = mm

b) 12 dm 4 cm = cm

f) 27 m 41 cm = cm

c) 324 cm = m cm

g) 19 km 102 m = m

d) 3 km 700 m = m

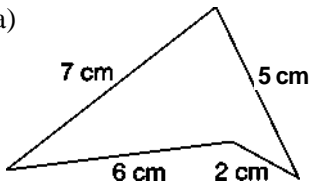
h) 118 cm = m cm

Zadanie 2

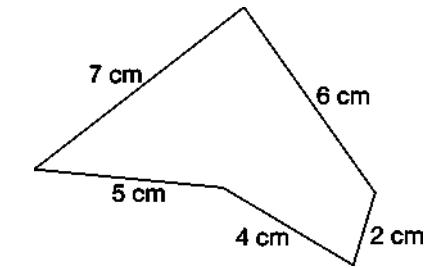
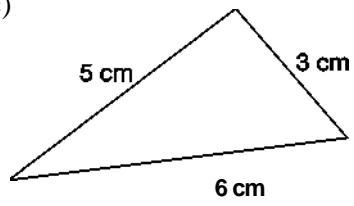
Oblicz obwody narysowanych figur.

a), b)

a)



c)



b)